

نقطة بثقة
Moving Forward
with Confidence



المادة: التاريخ (الحضارة الإسلامية)

الصف: الحادي عشر

للعام الدراسي ١٤٤٤ هـ - ٢٠٢٢/٢٠٢٣ م

الدور الأول الفصل الدراسي الثاني (الفترة الصباحية)

● زمن الامتحان : (ساعتان) ● عدد صفحات أسئلة الامتحان: (١٠) صفحات.

● الإجابة في الدفتر نفسه.

| | | |
|------|--|------------|
| | | اسم الطالب |
| الصف | | المدرسة |

| التوقيع بالاسم | | الدرجة | | السؤال |
|----------------|--------------|---------|----------|---------------|
| المصحح الثاني | المصحح الأول | بالحروف | بالأرقام | |
| | | | | ١ |
| | | | | ٢ |
| | | | | ٣ |
| | | | | ٤ |
| | | | | ٥ |
| مراجعة الجمع | جمعه | | | المجموع |
| | | | | المجموع الكلي |

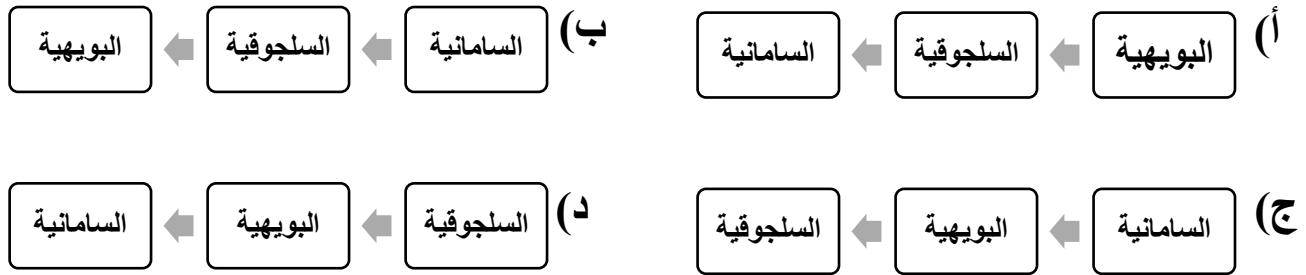
أجب عن جميع الأسئلة الآتية

السؤال الأول: ضع دائرة حول رمز الإجابة الصحيحة لكل مفردة من المفردات الآتية:
(١٢ درجة)

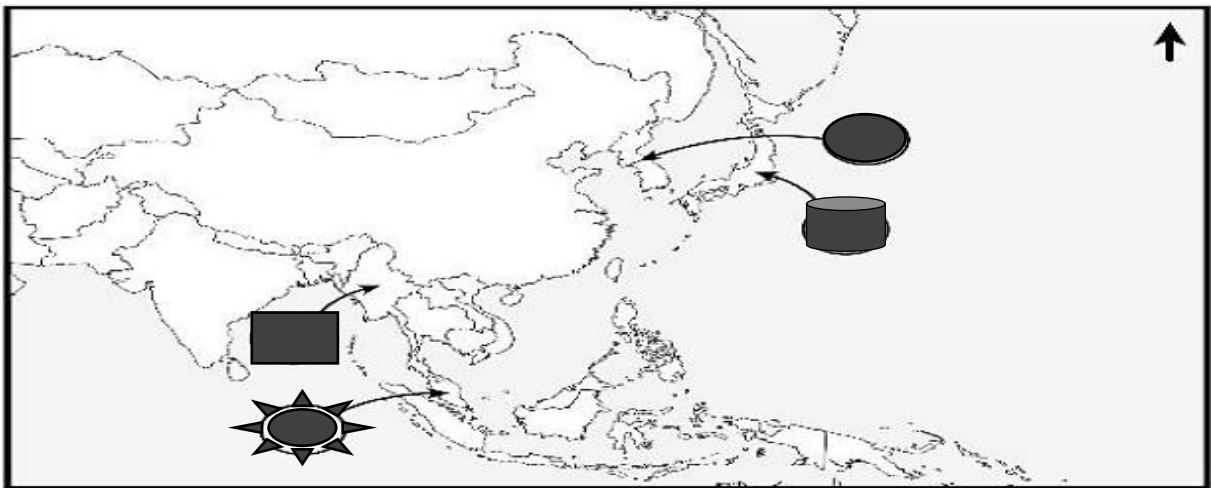
١. القرن الهجري الذي وصل فيه الإسلام إلى شرق آسيا:

(أ) الأول (ب) الثاني (ج) الثالث (د) الرابع

٢. الترتيب الصحيح لقيام الدويلات الإسلامية المستقلة في وسط آسيا من الأقدم إلى الأحدث:



٣. الرمز الذي يشير إلى البلاد التي عُرفت قديماً ببلاد (الواق واق) في الخريطة المقابلة:



(أ) ■ (ب) ★ (ج) ● (د) ●

تابع السؤال الأول:

٤. كَتَابُ أَلْفِهِ الشَّيْخِ الْأَمِينِ بْنِ عَلِيِّ الْمَزْرُوعِيِّ:
أ) قاموس الشريعة (ب) هداية الأطفال (ج) نثار الجواهر (د) هيمان الزاد
٥. الدولة التي يقع فيها المسجد في الصورة المقابلة:



أ) الهند (ب) الصين

ج) بنجلاديش (د) ماليزيا

٦. العلم الذي برع فيه العالم المسلم الترمذي:

أ) التفسير (ب) الفلسفة (ج) الحديث (د) الطب

٧. الدولة التي تنتمي إلى إقليم جنوب شرق آسيا:

أ) أندونيسيا (ب) الهند (ج) اليابان (د) الصين

٨. الصناعة التي اشتهرت بها مدينة شاطبة في الأندلس:

أ) الورق (ب) الزجاج (ج) الأسلحة (د) الجلود

٩. العام الميلادي الذي افتتح فيه قسم خاص لتعليم اللغة العربية بجامعة باليرمو:

أ) ١٩٥٦ (ب) ١٩٥٧ (ج) ١٩٥٨ (د) ١٩٥٩

تابع السؤال الأول:

استعن بالصورة المقابلة للإجابة عن المفردتين (١٠-١١):



١٠. المجال الذي ينتمي إليه الكتاب الموضح أمامك:

(ب) الفيزياء
(د) الفلك

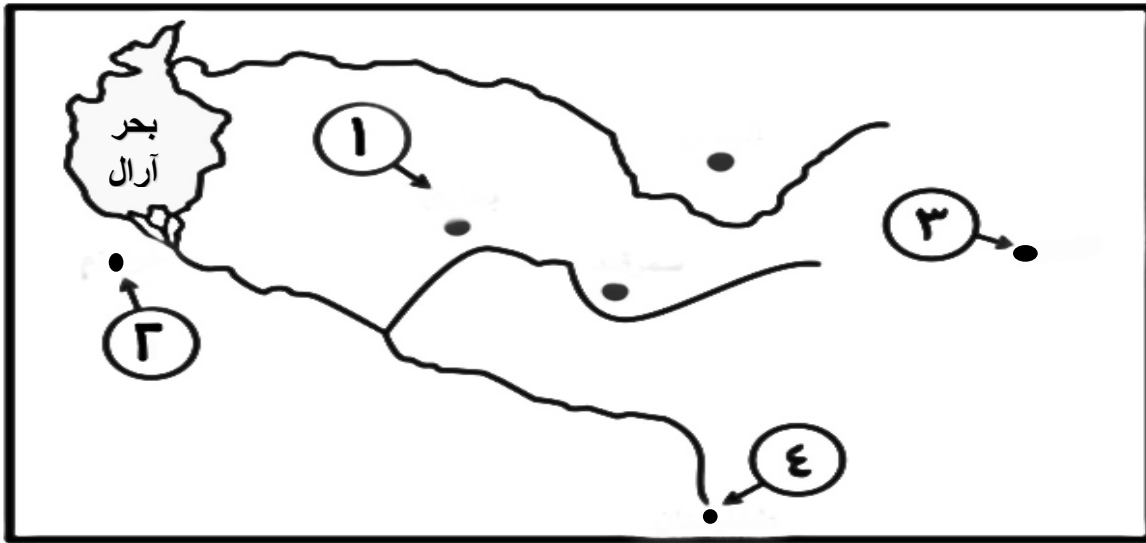
(أ) الكيمياء
(ج) الطب

١١. العالم المسلم الذي ألفه:

(ب) الزهراوي
(د) البيروني

(أ) المقدسي
(ج) الرازي

١٢. الرقم الذي يشير إلى المدينة التي ولد فيها العالم المسلم محمد بن إسماعيل البخاري:

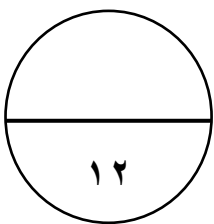


٤ (د)

٣ (ج)

٢ (ب)

١ (أ)



(٤)

المادة: التاريخ (الحضارة الإسلامية) الصف: الحادي عشر الدور الأول العام الدراسي ٢٠٢٢/٢٠٢٣ م

(١٢ درجة)

السؤال الثاني: أجب عن الأسئلة الآتية:

أولاً:

(أ) اكتب المصطلح/الاسم الدال على العبارات التالية:

| م | العبارة | المصطلح/ الاسم |
|---|--|----------------|
| ١ | جزيرة تقع في أرخبيل لامو على الساحل الكيني، اتخذها النباهنة عاصمة لهم. | |
| ٢ | مزيج بين اللغات العربية والفارسية واللهجات الهندية. | |

(ب) اذكر اثنين من العوامل التي ساعدت على انتشار الإسلام في شرق أفريقيا.

١.

٢.

ثانياً: صنف الدول التالية حسب الإقليم الجغرافي الذي تنتمي إليه:

| كوريا الشمالية | أوزبكستان | طاجكستان | منغوليا |
|----------------|-----------|----------|---------|
| وسط آسيا | | شرق آسيا | |
| ١. | ٢. | ٣. | ٤. |
| | | | |

ثالثاً:

”تعدّ منطقة جنوب آسيا من المناطق التي نشأت فيها العديد من الحضارات العالمية، كما تكونت فيها عدة دول إسلامية أسهمت في نشر الإسلام بتلك المنطقة“، في ضوء هذه العبارة أجب عن الأسئلة التالية:

١. عدد اثنين من الديانات التي انتشرت في منطقة جنوب آسيا.

.....

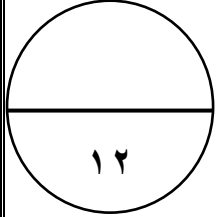
(٥)

المادة : الحضارة الإسلامية الصف : الحادي عشر الدور الأول العام الدراسي ٢٠٢٢/٢٠٢٣ م

تابع / السؤال الثاني:

٢. قارن بين الدولة الغزنوية والامبراطورية المغولية حسب الجدول التالي:

| أوجه المقارنة | الدولة الغزنوية | الامبراطورية المغولية |
|----------------|-----------------|-----------------------|
| الفترة الزمنية | .١ | .٣ |
| المؤسس | .٢ | .٤ |



(١٢ درجة)

السؤال الثالث: أجب عن الأسئلة التالية:
أولاً:

(أ) أذكر نتيجة واحدة ترتبت على كل من:

١. تأثير الحضارة الإسلامية على الحضارة الأوروبية.

٢. الفتح الإسلامي لإقليم وسط آسيا.

(ب) فسر ما يلي:

١. انتقال الحضارة الإسلامية إلى أوروبا عبر صقلية.

٢- انتشار استعمال كتاب الحاوي في الطب للرازي في الجامعات الأوروبية حتى القرن التاسع عشر.

(٦)

المادة: التاريخ (الحضارة الإسلامية) الصف: الحادي عشر الدور الأول العام الدراسي ٢٠٢٢/٢٠٢٣ م

تابع / السؤال الثالث:

ثانياً:

أ) اكتب أسفل كل صورة اسم المعلم الأثري:



..... (٢)

..... (١)

ب) عدد اثنين من أهداف الحروب الصليبية.

.....
.....

ثالثاً:

أ) (قام العمانيون بتصدير عدد من السلع إلى سواحل الصين الجنوبية) دلل على ذلك.

.....
.....

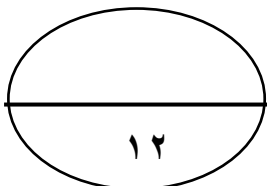
ب) رتب الأحداث التاريخية التالية بكتابة الأرقام (١-٤) حسب تسلسلها من الأقدم إلى الأحدث:

- إدراج الطبيب العُماني راشد بن عميرة ضمن الشخصيات العالمية لليونسكو () .

- نهاية الدولة العثمانية () .

- بداية الحروب الصليبية على العالم الإسلامي () .

- وصول الفتوحات العثمانية إلى فيينا عاصمة النمسا () .



يتبع/٧

(٢١ درجة)

السؤال الرابع: أجب عن الأسئلة التالية:

أولاً:

ادرس الشكل المقابل، ثم أجب عن الأسئلة التي تليه:



١. اسم المعلم التاريخي الظاهر في الشكل.

.....

٢. استنتج من خلال الشكل فنّ العمارة التي نقلها الأوروبيون إلى بلادهم من العمارة الإسلامية.

.....

٣. ما الدول الأوروبية التي انتقل إليها هذا الفن المعماري؟

..... /

ثانياً: اكتب نبذة تاريخية عن أبي عبيدة عبد الله بن القاسم البسيوي العُماني موضحاً فيه النقاط الآتية:

١ - المهنة التي عمل بها:

٢ - القرن الذي ارتحل فيه إلى الصين:

٣ - اثنين من أعماله:

أ.

ب.

تابع/ السؤال الرابع:

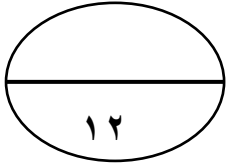
ثالثاً:

أ. قارن بين حكم أسرة آل الجندى، وحكم قبائل الحرث في شرقي أفريقيا كما في الجدول الآتي:

| قبائل الحرث | آل الجندى | الدولة وجه المقارنة |
|-------------|-----------|---------------------------|
| ٣..... | ١..... | المنطقة التي استقروا فيها |
| ٤..... | ٢..... | الإجازات |

ب. دلل على التقدم الثقافي الذي شهدته العاصمة قرطبة أثناء الحكم الإسلامي بها.

.....
.....



(٢ درجة)

السؤال الخامس: أجب عن الأسئلة التالية

أولاً:

(أ) انسب العبارات التالية إلى قائلها:

١- " إن الشعر الإيطالي ولد في صقلية حيث كان للعرب حضارة مزدهرة".

(.....)


٢- " النفوس تشرب إلى النتائج دون مقدمات، وترتاح للغرض المقصود دون التطويل في

(.....)

العبارات".

تابع السؤال الخامس:

ب) اكتب أسفل كل صورة المجال المرتبط بها من مجالات التأثير العماني في شرقي أفريقيا:



..... (٣)

..... (٢)

..... (١)

ثانياً:

أ) وضح دور ابن النفيس في مجال العلوم الطبية.

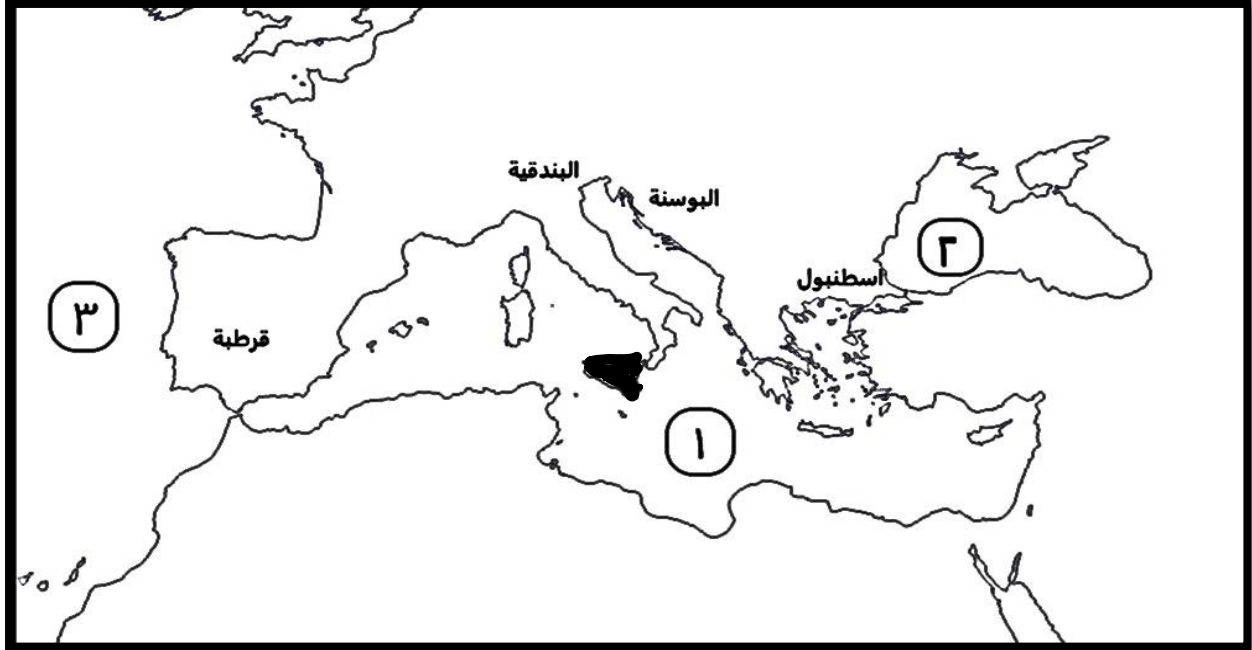
.....

(١٠)

المادة: التاريخ (الحضارة الإسلامية) الصف: الحادي عشر الدور الأول العام الدراسي ٢٠٢٢/٢٠٢٣ م

تابع السؤال الخامس:

(ب) ادرس الخريطة التي أمامك، ثم أجب عن الأسئلة التي تليها:



١. ضع دائرة حول المدينة الإيطالية التي نشأت فيها مدرسة مهمتها التوفيق بين الزخرفة الإسلامية من جهة والذوق الإيطالي من جهة أخرى في عصر النهضة.
٢. استخراج الرقم الذي يشير إلى المسطح المائي الذي كان جسر التواصل بين الحضارة الإسلامية والغرب الأوروبي (.....).

٣. دلل على مظاهر الحضارة الإسلامية في عهد الأغالبة والفاطميين في الجزيرة المظلة في الخريطة.

.....
.....

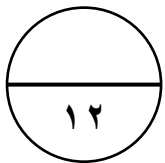
ثالثاً:

١. عدد اثنين من الكلمات الإنجليزية التي لها أصول عربية في مجال الملاحة البحرية.

.....

٢. أذكر اسم الدولة الإسلامية التي تمكنت من طرد الصليبيين نهائياً من البلاد الإسلامية عام ١٢٩١ م.

.....



انتهت الأسئلة، تمنياتنا للجميع بالنجاح والتوفيق